

ගම්පහ අධ්‍යාපන කලාපය Gampaha Education Zone ගම්පහ අධ්‍යාපන කලාපය Gampaha Education Zone ගම්පහ අධ්‍යාපන කලාපය Gampaha Education Zone ගම්පහ අධ්‍යාපන කලාපය Gampaha Education Zone ගම්පහ අධ්‍යාපන කලාපය Gampaha Education Zone					
<div style="text-align: center;">ගම්පහ අධ්‍යාපන කලාපය Gampaha Education Zone</div>					
ගම්පහ අධ්‍යාපන කලාපය Gampaha Education Zone ගම්පහ අධ්‍යාපන කලාපය Gampaha Education Zone ගම්පහ අධ්‍යාපන කලාපය Gampaha Education Zone ගම්පහ අධ්‍යාපන කලාපය Gampaha Education Zone ගම්පහ අධ්‍යාපන කලාපය Gampaha Education Zone					
දෙවන වාර ඇගයීම - 2025 Second Term Evaluation - 2025 இரண்டாம் தவணைப் பரீட்சை - 2025					
ශ්‍රේණිය Grade		විෂයය Subject		කාලය Time	
6		චිත්‍ර I,II		පැ. 02	
නම பெயர் Name					

දෙවන වාර ඇගයීම - 2025
Second Term Evaluation - 2025
இரண்டாம் துவணைப் பரீட்சை - 2025

Second Term Evaluation - 2025

இரண்டாம் தவணைப் பரீட்சை - 2025

ශ්‍රේණිය Grade	6	විෂයය Subject	චිත්‍ර I,II	කාලය Time	පැ. 02
නම පෙயර් Name					

6

විෂයය
Subject

စိတ္တ I,II

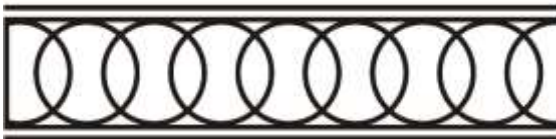
Time

ප්‍ර. 02

නම
பெயர்
Name


I කොටස

- අංක 01 සිට 05 දක්වා දී ඇති රූප සටහන් හඳුනාගෙන පිළිතුරු සපයන්න.



01. රූපයේ දැක්වෙන සැරසිලි මෝස්තරය කුමක් ද?

.....



03. රූපයේ දැක්වෙන වෛක‍්‍යයේ හැඩය කුමක් ද?

.....

- අංක 06 සිට 10 දක්වා අසා ඇති ප්‍රශ්නවලට නිවැරදි පිළිතුර තෝරා යටින් ඉරක් අඳින්න.

06. දැම් වර්ණය සෑදී ඇත්තේ වර්ණ දෙකක් මිශ්‍ර වීමෙනි. ඉන් රතු වර්ණය ඉවත් කළහොත් ඉතිරි වන වර්ණය කුමක්ද ?

- (1.) නිල් වර්ණය

- (3.) තැඹිලි වර්ණය

07. සැරසිලි මූලිකාංග වර්ගීකරණයට තනිපොට ලඟුව අයත් වන්නේ,

- (1.) ငါ့ဘီမိက ချစ်မိမိပါ။

- (3.) දිව්‍ය ගණයට ය.

08. හින්දු කෝවිලක ප්‍රධාන කොටස්

(1.) 1 කි.

(2.) 2 කි.

(3.) 3 කි.

(4.) 4 කි.

09. වෛත්‍යායක හතරැස්කොටුවට පහළින් ඇති අංගය වන්නේ,

(1.) දේවතාකොටුව

(2.) ධාතු ගර්භය

(3.) සිළුමිණ

(4.) ජේසා චලලු

10. ඉස්ලාම් පල්ලියක දෙපස ඇති කුලුණු හඳුන්වන නම වන්නේ,

(1.) ගෝපුර

(2.) ශිබරය

(3.) මිනාර්

(4.) විමාණ

● ප්‍රශ්න අංක 11 සිට 15 දක්වා දී ඇති වචන වලට A, B, C, D, E අකරින් වඩාත් ම ගැළපෙන රූප සටහන තෝරා යා කරන්න.

11. කෝලම්

A



12. වෙසක් උත්සවය

B



13. කොලාඪ

C



14. මස්ජිදය

D



15. ග්‍රැෆික්

E



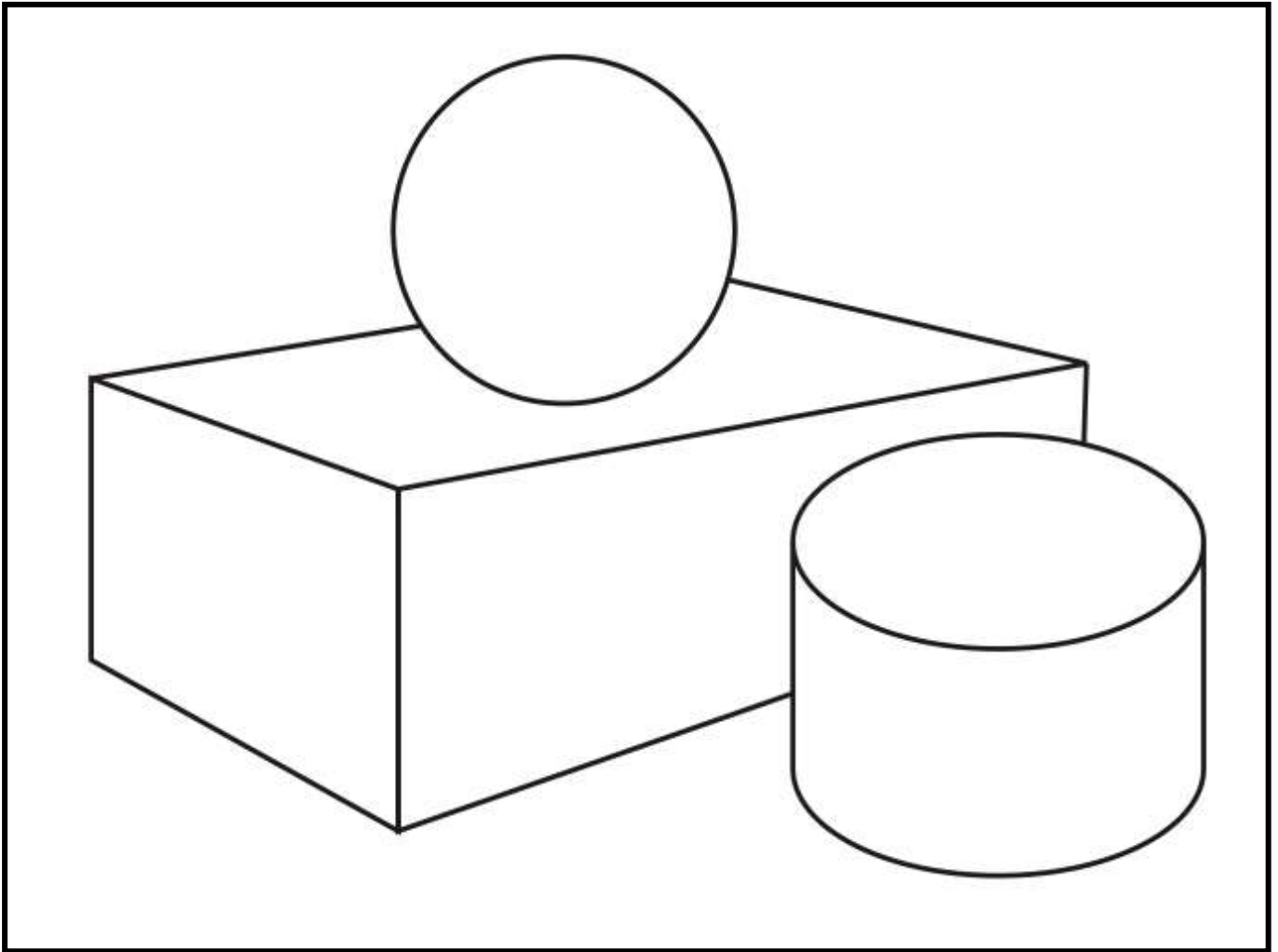
● ප්‍රශ්න අංක 16 සිට 20 දක්වා දී ඇති වාක්‍ය වලට සුදුසු වචන යොදා හිස්තැන් පුරවන්න.

16. පිරිසිදු කරගත් ගෙබිම මත කහ කුඩු සහ සහල් පිටිවලින් රටා
නිර්මාණය කරයි.
17. හින්දු කෝවිලක ප්‍රධානතම ගෘහ නිර්මාණ අංගය වේ.
18. ශිව දෙවියන්ගේ වාහනය ලෙස සැලකෙන ගවයා නම් වේ.
19. ඉස්ලාම් භක්තිකයින් රාමසාන් උත්සවයේ උපවාසයේ යෙදීම යන අරාබි වහරෙන්
හඳුන්වනු ලැබේ.
20. ඉස්ලාම් පල්ලියක ගෘහ නිර්මාණ අංගයක් වන උල් වූ තුඩක් සහිත ගෝලාකාර විශාල අංගය
..... නම් වේ.

(ලකුණු $2 \times 20 = 40$)

II කොටස

- පහත දී ඇති ද්‍රව්‍ය බලා ඇඳීමේ රේඛා චිත්‍රය ත්‍රිමාණ ලක්ෂණ මතු වන සේ වර්ණ කරන්න.
(පැන්සල හෝ පැස්ටල් භාවිතා කළ හැක.)



(ලකුණු 10)

- පහත දී ඇති මාතෘකා අතරින් එක් මාතෘකාවක් තෝරාගෙන එක් විෂයක් පමණක් ඇඳ වර්ණ කරන්න.

- පාසලේ පැවති ශ්‍රමදානයක්.
- වනාන්තරයක නිදහසේ සැරිසරණ සතුන්
- පූජනීය ස්ථානයක ආගමික වතාවත් සිදු කරන බැතිමතුන්.
- තැගි දවටනයක් සඳහා මෝස්තරයක් නිර්මාණය කරන්න.
- මල්, කොළ හැඩ ඇසුරෙන් චිත්ත රෙද්දකට මෝස්තරයක්
- පාසලේ ක්‍රීඩා උත්සවය සඳහා ආරාධනා පත්‍රයක් නිර්මාණය කරන්න.
- ලමා කතන්දර පොතකට සුදුසු පොත් පිටකවරයක්

(ලකුණු 50)